

地図の利用と土地の理解

名前

学習日

ポイント

- ① 等高線は、同じ高さのところをむすんだ線で、急しゃめんほど線がこみあう。
- ② 方い記号のやじるしは北をさし、方い記号のない地図は上が北である。
- ③ 地図に書かれた地図記号は、建物や土地の使われ方をあらわしている。

きほん問題



次の(1)～(3)の問いに答えなさい。

- (1) 地図のなかに描かれる等高線についての説明として、正しいものを、ア～エのなかから2つ選び、記号で答えなさい。

ア 等高線は、同じ高さのところをむすんだ線のことである。

イ 等高線は、どんな土地の利用がされているかを示すために描かれる。

ウ 線がこんでいるところほど、しゃめんが急になっている。

エ となり合った等高線のはばが広いところは、土地が平らになっているところである。

- (2) 下の記号は、地図のなかに書かれているものです。正しい説明をしているものを、ア～エのなかから2つ選び、記号で答えなさい。

ア この記号は、方いを表す記号である。

イ この記号は、しゅくしゃくを表す記号である。

ウ やじるしの先は、南を表している。

エ やじるしの先は、北を表している。



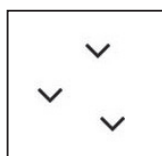
- (3) 地図のなかに次の①～③の農作物をさいばいしているところを地図記号であらわそうと思います。ア～ウの地図記号のなかから正しいものを1つずつ選び、記号で答えなさい。

① ぶどう

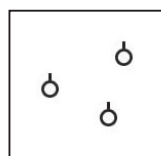
② 水田の米

③ キャベツ

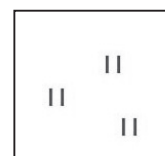
ア



イ



ウ



地図の利用と土地の理解

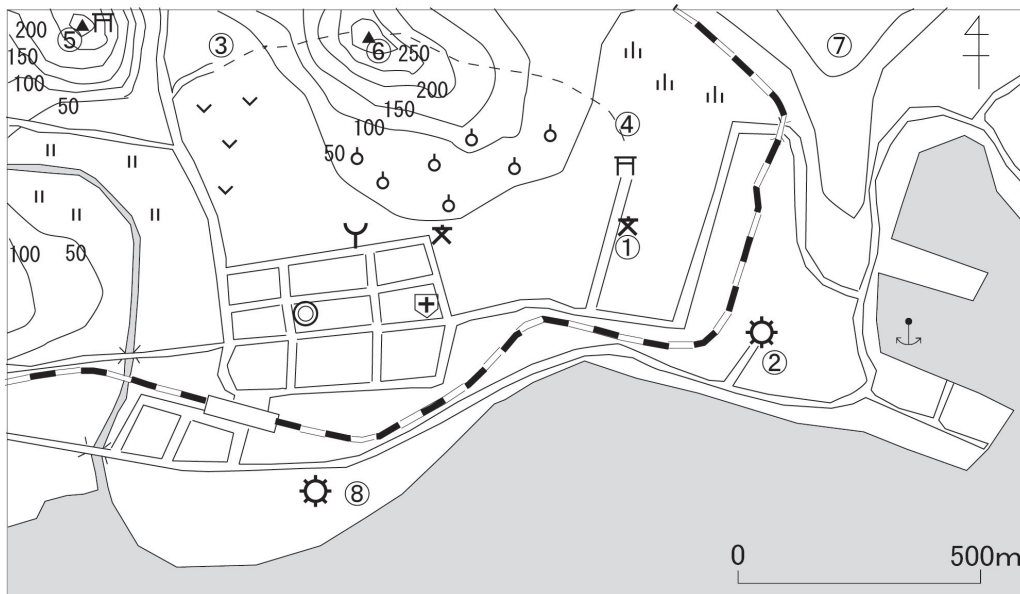
名前

学習日

チャレンジ問題



次の地図を見て、あとの問いに答えなさい。



- (1) ①の学校から見て、②の工場はどちらにありますか。ア～エのなかから正しいものを選び、記号で答えなさい。

ア 北東 イ 北西 ウ 南東 エ 南西

- (2) ⑥の山にのぼろうと思います。③と④では、どちらがゆるやかな道だと考えられますか。その理由とともに答えなさい。

- (3) ⑤～⑦の場所で、一番低いところは、どこですか。ア～エのなかから正しいものを選び、記号で答えなさい。

ア ⑤ イ ⑥ ウ ⑦ エ この地図ではわからない

- (4) ②から⑧の工場まで歩くと、どのくらい歩いたことになりますか。ア～オのなかから正しいものを選び、記号で答えなさい。



ア およそ200メートル イ およそ500メートル ウ およそ1000メートル
エ およそ2000メートル オ およそ3000メートル

- (5) 病院の北にあるしゃめんは、どんな土地利用がされていますか。ア～ウのなかから正しいものを選び、記号で答えなさい。

ア くだものがつくられている イ 田 ウ 畑



地図の利用と土地の理解

【きほん問題】

かい 答	ア ド バ イ ス
<div></div> <div>(1) ア, ウ (2) ア, エ (3)①イ ②ウ ③ア</div>	<div></div> <div>(1) 同じ高さのところをむすんで、土地のでこぼこのようすをあらわしたものが等高線です。となり合った等高線のはばが広いほど、^{じっさい}実際の土地のかたむきはなだらかで、はばがせまいほど、実際の土地のかたむきは急になっています。 (2) 方い記号が書かれていない地図は、上が北になっています。また、方い記号がいつも上向きになっているとはかぎりません。 (3) 水田でつくられないお米もありますが、このときは畑の記号であらわします。</div>

地図の利用と土地の理解

【チャレンジ問題】

かい 答	アドバイス
<div></div> <div>(1) ウ (2) (かい答例) ④の方が、③より等高線の間かくが広くなっているのです、④の方がゆるやかな道である。 (3) ウ (4) ウ (5) ア</div>	<div></div> <div>(1) 方がわかるように、右上に方い記号が書かれています。 (2) 等高線と等高線の間かくがせまいほど、土地のかたむきは急になり、間かくが広いほど、土地のかたむきはゆるやかになります。 (4) 右下に、500メートルの距離がどのくらいの長さになるかが書かれていますので、それを参考にして、実際の距離のおおまかな見当をつけます。 (5) 病院の北のしゃめんには、みかんやりんご、もも、ナシ、ぶどうなどのくだものをさいばいしているところにつける記号（果樹園の記号）が書かれています。</div>